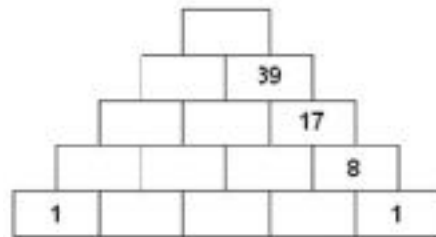
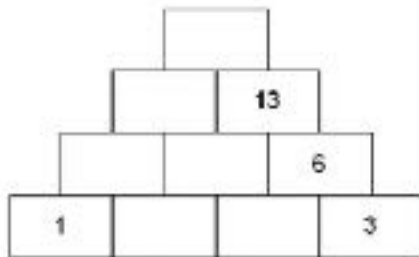
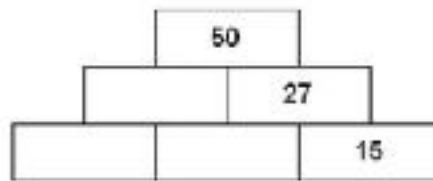
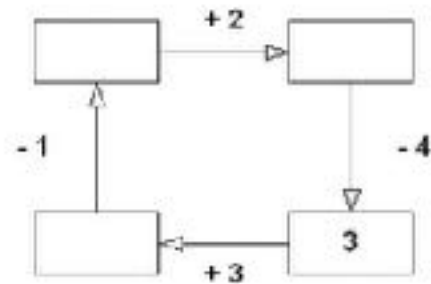
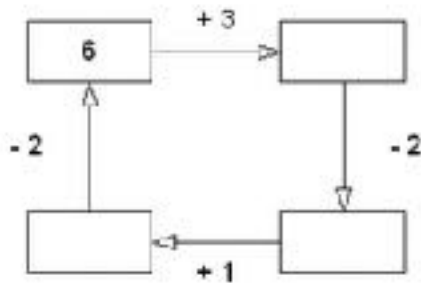


POČETNÍ PYRAMIDY

Dokážete spočítat tyto matematické pyramidy?
Číslice nahoře je součtem dvou dolejších.





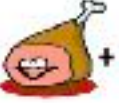

Doplňte číslice do rámečků a potom spočítejte vajíčka a
zapište jejich počet do připravených čtverců.
Nakonec doplňte věty a sečtěte vajíčka dohromady.











V první řadě je _____ vajíček,
ve druhé řadě je _____ vajíček.
Dohromady je tu nakreslených _____ vajíček.





Spočítejte, kolik zaplatíte za nákup a součet doplňte do políček:



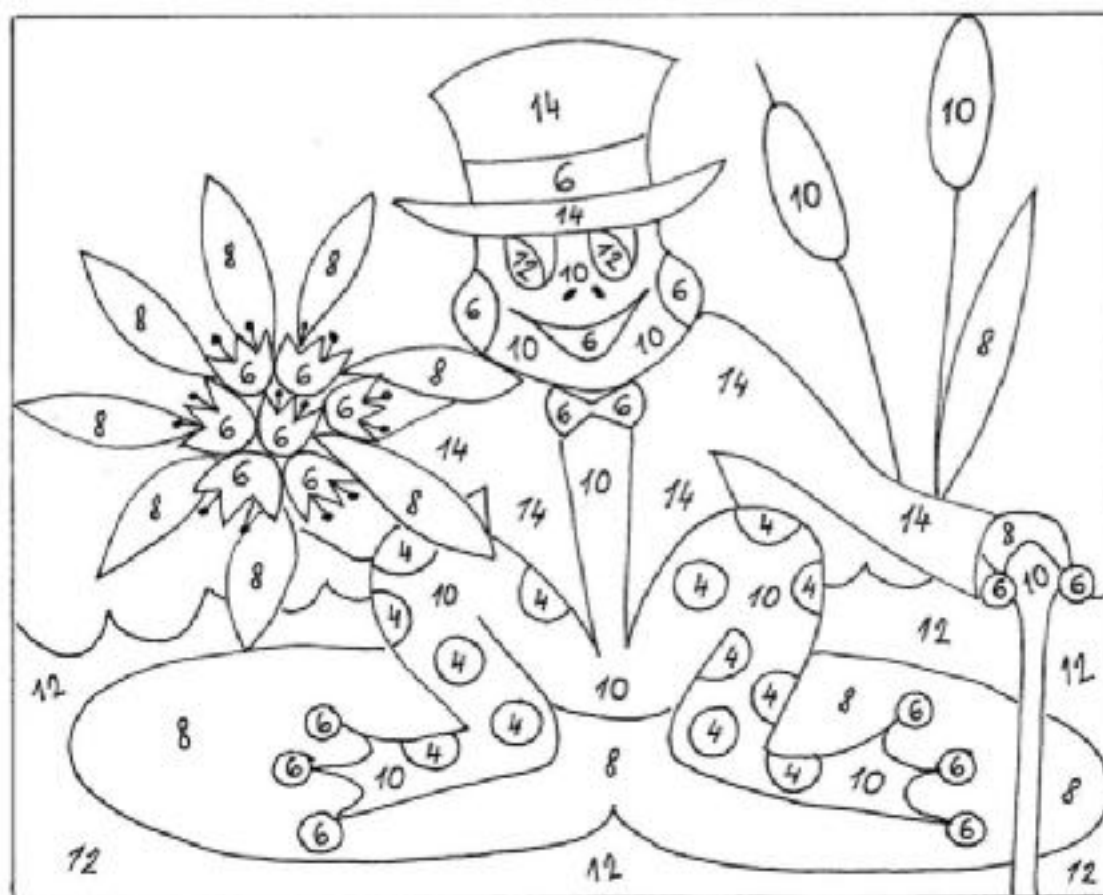
 +  +  +  =

 +  +  +  =

 +  +  +  =

 +  +  +  =

ŽENICH ŽABÁK



- 2x2 žlutá
- 3x2 červená
- 4x2 zelená
- 5x2 hnědá
- 6x2 modrá
- 7x2 černá