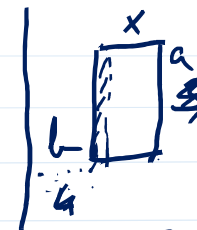



Ú 3.15: Vypočítejte magnetický tok Φ plochou čtverce o straně $a = 3$ cm umístěného vedle nekonečně dlouhého přímého drátu, jímž protéká proud $I = 15$ A. Jedna strana čtverce je rovnoběžná s drátem ve vzdálenosti 4 cm, protilehlá strana je od drátu vzdálena 5 cm.

DÚ.

$$B(r) = \frac{\mu_0 I}{2\pi r}$$

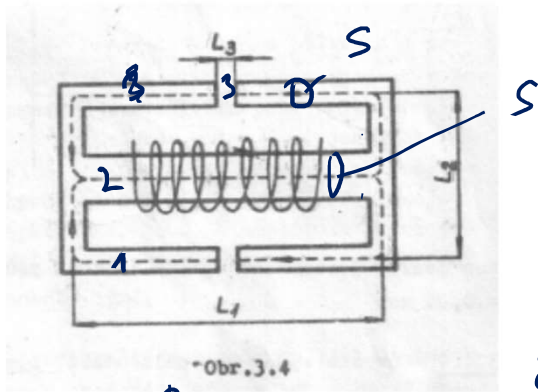


$$dS = a dr$$

$$\int \vec{B} \cdot d\vec{S} = \int_4^{4+a} \frac{\mu_0 I}{2\pi r} a dr$$

$$= \int_4^{4+a} \frac{\mu_0 I}{2\pi r} a dr$$

(A) 3.2.5. Kolik ampérzávitů musí mít elektromagnet (obr.3.4), aby v mezerách bylo pole
 $B_3=0,65$ T. Délky jednotlivých částí magnetického obvodu: $L_1=100$ cm, $L_2=80$ cm, $L_3=4$ mm.
 Průřez magnetického toku je ve všech částech obvodu stejný $S=20$ cm².

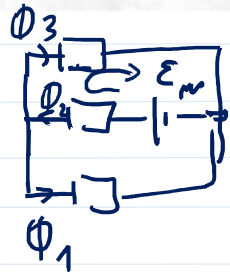


$$R_{m1} = \frac{L_1 - L_3}{\mu_0 \mu_r S} + \frac{L_2}{\mu_0 \mu_r S} + \frac{L_3}{\mu_0 \mu_r S}$$

$$R_{m2} = \frac{L_2}{\mu_0 \mu_r S}$$

$$R_{m3} = R_{m1}$$

$$\mathcal{E}_m = NI$$



$$\Phi_2 = \Phi_1 + \Phi_3 = 2\Phi_3$$

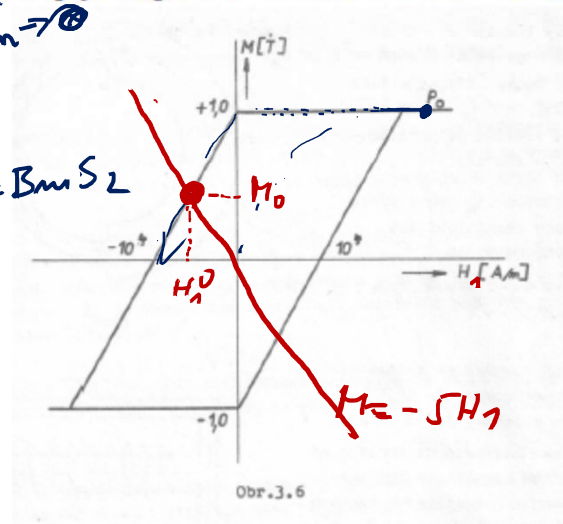
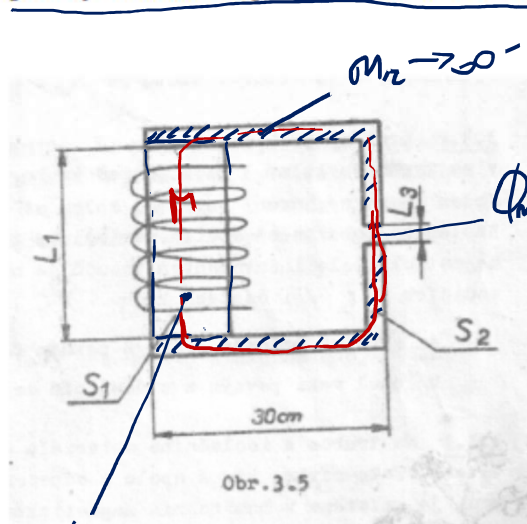
$$\Phi_1 = \Phi_3$$

$$\Phi_2 R_{m2} + \Phi_3 R_{m3} = NI$$

$$\Phi_3 (2R_{m2} + R_{m3}) = NI$$

$$B_3 S () = NI$$

(A) 3.2.6. Soustava pozůstává z válečku – permanentního magnetu ($S_1=100 \text{ cm}^2$, $L_1=20 \text{ cm}$) a dvou pólových nástavců z magneticky měkkého železa ($S_2=20 \text{ cm}^2$). Vzduchová mezera má délku $L_3=1 \text{ cm}$ (obr.3.5). Proudem ve vinutí se váleček zmagnetoval do bodu P_0 (obr.3.6). Určete intenzitu magnetického pole v mezeře po vypnutí proudu. Permeabilitu pólových nástavců považujte za nekonečnou, rozptyl magnetického toku v mezeře zanedbejte.



$$\Phi_1 = B_1 S_1$$

$$\Phi_m = B_m S_2$$

$$R_m = \frac{L}{\mu_0 \mu_r S}$$

$$\frac{S_2}{S_1} = \frac{1}{5}$$

$$\frac{B_1}{B_m} = 5$$

$$B_1 = \mu_0 (H_1 + M)$$

$$B_m = \mu_0 H_m$$

$$\Phi_1 = \Phi_m \Rightarrow \frac{B_1}{B_m} = \frac{1}{5}$$

$$B_1 = \frac{1}{5} B_m$$

z. A. 2 $\oint \vec{H} \cdot d\vec{l} = I = 0$

$$H_1 L_1 + H_m L_3 = 0$$

$$H_1 = -H_m \frac{L_3}{L_1} \parallel (\mu_0 H_1 + M) = \frac{1}{5} \mu_0 H_m$$

$$(\mu_0 H_1 + M) = \frac{1}{5} \mu_0 \left(-H_1 \frac{L_1}{L_3}\right)$$

$$\mu_0 H_1 + \frac{1}{5} \frac{L_1}{L_3} \mu_0 H_1 + \mu_0 M = 0$$

$$M = -\left(1 + \frac{L_1}{5L_3}\right) H_1 = -5 H_1$$

z. A. 2 $\Rightarrow M = -5 H_1$

(A) 3.2.7. Nalezněte B, H uvnitř homogenně zmagnetovaného disku, je-li vektor M kolmý k rovině disku (zanedbejte efekty na okrajích).

Magnetostatika DÚ

z A.2. $\Rightarrow \oint \vec{H} d\vec{C} = 0$
 $\Rightarrow \vec{H} = -\nabla \varphi_m$

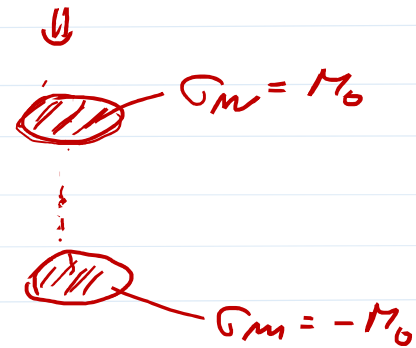
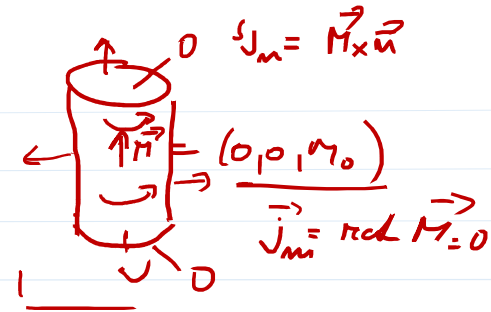
podobnost el. a mag. d. polu'

$\Rightarrow \begin{cases} \sigma_m(\vec{r}) = M(\vec{r}) \cdot \vec{n} \\ \rho_m(\vec{r}) = -\text{div} \vec{M} \end{cases}$ $\sigma_m = 0$

$$\vec{H} = \frac{1}{4\pi} \int_S \frac{\sigma_m}{R} d\vec{S} + \int_V \frac{\rho_m}{R} dV$$

uvězte pole na ose disku

$H \text{ a } \vec{B} = \mu_0 (\vec{H} + \vec{M})$

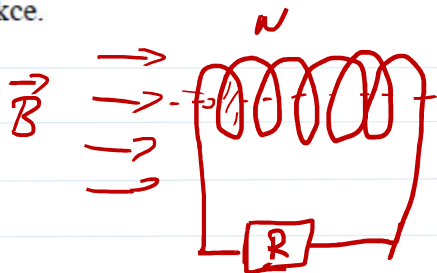


(A) 3.3.3. Na trubce z izolačního materiálu o poloměru D je navinuta cívka o N závitěch. Tato cívka, která spolu s odporem R k ní připojeným tvoří uzavřený obvod, je umístěna v homogenním magnetickém poli indukce B . Osa cívky je rovnoběžná s vektorem magnetické indukce. Spočítejte

(a) proudový impuls (náboj) $\int_0^{\infty} i(t) dt$,

(b) napěťový impuls $\int_0^{\infty} u(t) dt$,

který proteče obvodem při otočení cívky o 180° kolem osy kolmé k vektoru magnetické indukce.



ω
 $0 \rightarrow 180^\circ$

R - odpor cívky - zbytek obvodu

impuls $Q = \int_0^{\infty} i dt = \int_0^{\infty} N \frac{d}{dt} (B \pi D^2 \cos \omega t) dt$

$\phi(t) = \phi_0 \cdot \cos \omega t = B \pi D^2 \cos \omega t$

$\mathcal{E}_m = -N \frac{d\phi}{dt}$

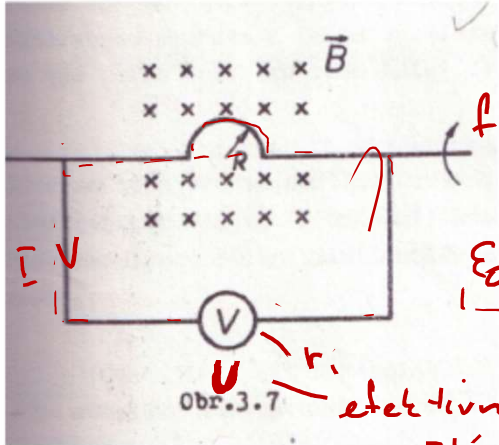
$i(t) = \frac{|\mathcal{E}_m(t)|}{R}$

$= N B \pi D^2 \int_0^{\infty} (-\omega) \sin \omega t dt = -\omega N B \pi D^2 \int_0^{\frac{\pi}{2\omega}} \sin(\omega t) dt =$
 $= -\omega \pi N B D^2 \left[-\frac{\cos \omega t}{\omega} \right]_0^{\frac{\pi}{2\omega}} = \pi N B D^2 [-1]$

$|Q| = \frac{2\pi N B D^2}{\phi_0}$

$2\pi f = \omega$
 $\frac{L\pi}{T} = \omega$
 $\omega t = \pi$
 $t = \frac{\pi}{\omega}$

(A) 3.3.5. Pevný drát ve tvaru půlkruhu o poloměru R se otáčí s frekvencí f v homogenním magnetickém poli podle obr.3.7. Jaká je indukce pole, jestliže voltmetr s vnitřním odporem r_i (zbytek obvodu má zanedbatelný odpor) ukazuje napětí U . Jaká je amplituda indukovaného proudu? Pole vytvořené proudem je zanedbatelné.



efektivní napětí

$$\varepsilon_0 \rightarrow \sqrt{2} U$$

$$i(t) = \frac{\varepsilon(t)}{r_i}$$

$$\frac{d\Phi}{dt}$$

$$\varepsilon_{em} = - \frac{d\Phi}{dt}$$

$$\varepsilon_{em}(t) = - \frac{\pi R^2 B}{2} (-\sin \omega t) \cdot \omega$$

$$= \frac{\omega \pi R^2 B}{2} \sin \omega t$$

$$\varepsilon_0 = \sqrt{2} U$$

$$B = \frac{\sqrt{2} U \cdot 2}{\omega \pi R^2}$$

$$= \frac{\sqrt{2} U \cdot 2}{2\pi f \pi R^2}$$

$$\Phi(t) = \Phi_{const} + \Phi_0 \cos \omega t$$

$$\Phi_0 = \frac{\pi R^2 B}{2}$$

$$= \Phi_{const} + \frac{\pi R^2 B}{2} \cos \omega t$$

